

Schriftliche Abiturprüfung 2020 im dritten Prüfungsfach

Grundkurs Mathematik (CAS)

Dienstag, 5. Mai 2020, 9:00 Uhr

Unterlagen für Referentinnen und Referentinnen und Korreferentinnen und Korreferenten

- Diese Unterlagen sind nicht für Schülerinnen und Schüler bestimmt -

Diese Unterlagen enthalten ...

- Allgemeines,
 - die Bewertung der Prüfungsleistung und Lösungsskizzen zu den Aufgaben,
 - keine Aufgabenstellungen – Ihre Exemplare entnehmen Sie bitte den Schüleraufgaben – ,
 - einen Protokollbogen zur Auswahl der Aufgaben für die Prüfungsakten Ihrer Schule,
 - einen Rückmeldebogen für die Zentralabiturkommission zur Auswahl der Aufgaben.
-

Allgemeines

- Prüfen Sie die Prüfungsaufgaben vor der Aushändigung an die Schülerinnen und Schüler auf ihre Vollständigkeit und formale und inhaltliche Korrektheit und ergänzen Sie sie gegebenenfalls. Bei nicht ausreichender Anzahl erstellen Sie entsprechende Kopien vor Ort. Bei einem schwerwiegenden inhaltlichen Fehler informieren Sie sofort die Senatorin für Kinder und Bildung über die **Hotline (0421...)** von 7.00 bis 9.30 Uhr. Die von der Senatorin für Kinder und Bildung vorgenommene Korrektur gibt die Schule sofort an die für die schriftliche Prüfung zuständige Lehrkraft weiter.
- Die Prüfungsaufgaben bestehen aus **zwei Teilen**.
- **Teil 1 besteht aus den „hilfsmittelfreien“ Aufgaben:**
Die Bearbeitungszeit beträgt 45 Minuten.
Erlaubte Hilfsmittel: Zeichengerät und Rechtschreiblexikon.
Für die Bearbeitung dieser Aufgaben sind Taschenrechner und Formelsammlung **NICHT** erlaubt.
- **Teil 2 beinhaltet die Aufgaben mit Hilfsmitteln.**
Die Bearbeitungszeit beträgt 180 Minuten.
Erlaubte Hilfsmittel: Computer-Algebra-System (CAS), dessen Betriebsfähigkeit die Schülerin / der Schüler gewährleistet, Formelsammlung, Zeichengerät, Rechtschreiblexikon.
- **Auswahl der Aufgaben:**
Wählen Sie gemeinsam mit Ihrer Korreferentin / Ihrem Korreferenten vorab für den „hilfsmittelfreien“ Teil aus den fünf vorgelegten Aufgaben vier zur Bearbeitung aus. Diese kommen aus den Themenbereichen **Analysis, Stochastik** sowie **Lineare Algebra / Analytische Geometrie**. Im Themenbereich Lineare Algebra / Analytische Geometrie werden Aufgaben vorgelegt, die ihren Schwerpunkt in einem der beiden Themen haben. Der Fachprüfungsausschuss wählt in diesem Themenbereich den Schwerpunkt Lineare Algebra oder Analytische Geometrie.

- Für den zweiten Teil der Prüfung, den Aufgaben mit Hilfsmitteln, kommen die Aufgaben aus den Themenbereichen **Analysis**, **Stochastik** sowie **Lineare Algebra / Analytische Geometrie**. Im Themenbereich Lineare Algebra / Analytische Geometrie werden Aufgaben vorgelegt, die ihren Schwerpunkt jeweils in einem der beiden Themen haben. Den Schülerinnen und Schülern werden drei Aufgaben vorgelegt. Der Fachprüfungsausschuss wählt in den Themenbereichen **Analysis** sowie **Lineare Algebra / Analytische Geometrie** jeweils eine der beiden vorgelegten Aufgaben aus, die Aufgabe aus dem Themenbereich **Stochastik** ist verpflichtend. Kommt es zu keiner Einigung, bestimmt die/der Vorsitzende des Fachprüfungsausschusses die Auswahl der Aufgaben (§ 10 Abs. 2 Nr. 1 AP-V). Protokollieren Sie auf dem beigefügten Protokollformular, welche Aufgaben Sie gewählt haben (Prüferin/Prüfer und Korreferentin/Korreferent und ggf. auch die/der Vorsitzende des Fachprüfungsausschusses unterschreiben das Protokoll).
- Füllen Sie bitte für die Zentralabiturkommission Mathematik den beigefügten Rückmeldebogen zur Auswahl der Aufgaben aus und schicken ihn an die dort genannte Adresse.
- Fragen Sie vor Verteilung der Aufgaben nach der Arbeitsfähigkeit der Schülerinnen und Schüler und weisen Sie diese auf die Regelungen des § 5 AP-V (Täuschung und Behinderung) hin.
- Machen Sie die Schülerinnen und Schüler auf die Arbeitshinweise aufmerksam, die am Anfang ihrer Unterlagen für die Prüfung stehen. Geben Sie ihnen ggf. die nötigen Angaben zur Schulnummer sowie zur genauen Kursbezeichnung.

Die Bewertung der Prüfungsleistung

Die Lösungsskizze stellt eine Lösungsvariante dar; andere gleichwertige Lösungen sind entsprechend zu bewerten. Die Bewertungsanteile pro Teilaufgabe sind obligatorisch.

Für die Festlegung der Gesamtleistung werden den erzielten Bewertungseinheiten die entsprechenden Notenstufen gemäß folgender Tabelle zugeordnet.

Ab ... %	Punkte	Note	Ab ... %	Punkte	Note
95	15	1+	55	07	3-
90	14	1	50	06	4+
85	13	1-	45	05	4
80	12	2+	40	04	4-
75	11	2	33	03	5+
70	10	2-	27	02	5
65	09	3+	20	01	5-
60	08	3	0	00	6

Teil 1 Erwartungshorizont und Bewertung nach Anforderungsbereichen

Lösungsskizze		Bewertung		
		I	II	III
Aufgabe 1				
a	$f'(x) = 3x^2 - 14$; $f''(x) = 6x$; $f'''(x) = 6$. Aus $f''(x) = 0 \Leftrightarrow 6x = 0 \Leftrightarrow x = 0$ und $f'''(0) = 6 \neq 0$ folgt, dass an der Stelle 0 ein Wendepunkt von f liegt.	3		
b	$F_c(x) = \frac{1}{4} \cdot x^4 - 7x^2 - 5x + c$, $c \in \mathbb{R}$ Mit $F_c(2) = 4 - 28 - 10 + c = -30$ folgt $c = 4$.		2	
Verteilung der insgesamt 5 Bewertungseinheiten auf die Anforderungsbereiche		3	2	

Aufgabe 2				
	$f(x) = ax^2 + bx + c$; $f'(x) = 2ax + b$ Es gilt $f(0) = 0 \Leftrightarrow c = 0$. Damit liefern $f(2) = 4 \cdot 2 - 2 = 6$ und $f'(2) = 4$ das folgende Gleichungssystem: $\text{I } 4a + 2b = 6 \qquad \text{II } 4a + b = 4$ Aus I und II ergibt sich $b = 2$ und damit $a = \frac{1}{2}$.	2	3	
Verteilung der insgesamt 5 Bewertungseinheiten auf die Anforderungsbereiche		2	3	

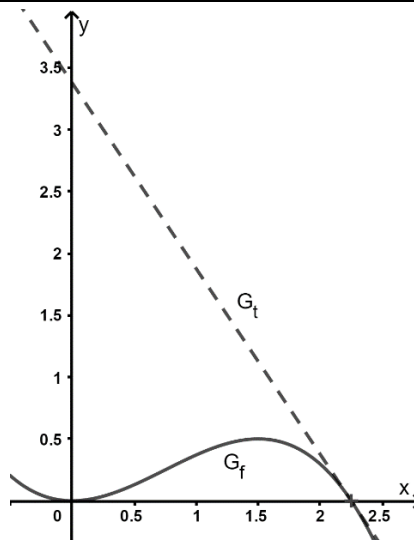
Aufgabe 3				
a	Mit $n_X \cdot p_X = 2 \Leftrightarrow p_X = \frac{1}{2}$ ergibt sich $P(X = 4) = \frac{1}{16}$.		2	
b	Die Wahrscheinlichkeit dafür, dass mindestens ein Treffer erzielt wird, ist kleiner als 0,3. Bestimmen Sie alle Werte, die für n_Y infrage kommen.			3
Verteilung der insgesamt 5 Bewertungseinheiten auf die Anforderungsbereiche			2	3

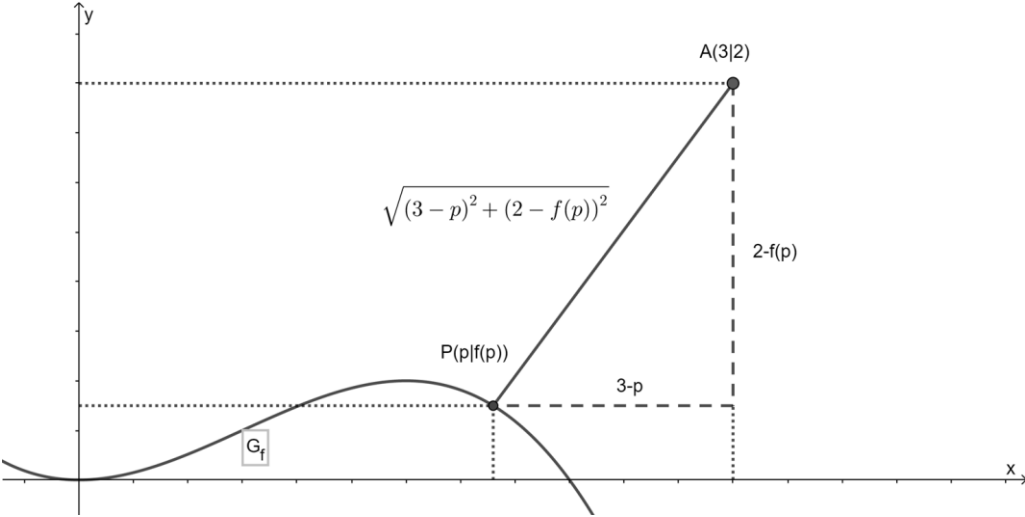
Lösungsskizze		Bewertung		
		I	II	III
Aufgabe 4				
	<p>Die Gerade ist z. B. gegeben durch die Gleichung</p> $g: \vec{x} = \begin{pmatrix} 4 \\ 0 \\ 5 \end{pmatrix} + k \cdot \begin{pmatrix} -3 \\ 6 \\ -3 \end{pmatrix}.$ <p>Die rechte Seitenwand liegt in der Ebene mit der Gleichung $x_2 = 7$. Mit $7 = 0 + 6 \cdot k$ erhält man $k = \frac{7}{6}$. Der Schatten der Spitze hat damit den Ortsvektor</p> $\text{tor} \begin{pmatrix} 4 \\ 0 \\ 5 \end{pmatrix} + \frac{7}{6} \cdot \begin{pmatrix} -3 \\ 6 \\ -3 \end{pmatrix} = \begin{pmatrix} 0,5 \\ 7 \\ 1,5 \end{pmatrix}.$ <p>Da $0 < 0,5 < 4$ und $0 < 1,5 < 3$ gilt, liegt der Schatten auf der rechten Seitenwand.</p>	2	3	
Verteilung der insgesamt 5 Bewertungseinheiten auf die Anforderungsbereiche		2	3	

Aufgabe 5				
a	$a = 2, b = -5, c = -\frac{1}{10}$	1	1	
b	<p>$A \cdot \vec{v} = \vec{v}$ liefert das folgende Gleichungssystem:</p> <p>I $\frac{1}{2}y = x$ II $-\frac{1}{5}z = y$ III $-10x = z$</p> <p>Eine Lösung ist $x = -1, y = -2$ und $z = 10$.</p>	2	1	
Verteilung der insgesamt 5 Bewertungseinheiten auf die Anforderungsbereiche		3	2	

Teil 2 – Aufgabe 1 Erwartungshorizont und Bewertung nach Anforderungsbereichen

Der Erwartungshorizont stellt für jede Teilaufgabe eine mögliche Lösung dar. Nicht dargestellte korrekte Lösungen sind als gleichwertig zu akzeptieren.

		Lösungsskizze	I	II	III
1	a	<p>Aus den beschriebenen Bedingungen ergibt sich:</p> <p>I: $f(0) = 0$; II: $f'(0) = 0$; III: $f(3) = -2$; IV: $f'(3) = -4$</p> <p>Mit $f(x) = ax^3 + bx^2 + cx + d$ und $f'(x) = 3ax^2 + 2bx + c$ erhält man aus I $d=0$ und aus II $c = 0$. Damit folgt aus III $27a + 9b = -2$ und aus IV $27a + 6b = -4$, also $a = -\frac{8}{27}$ und $b = \frac{2}{3}$.</p>		5	
	b	<p>Der Hochpunkt hat die Koordinaten $(\frac{3}{2} \frac{1}{2})$.</p> <p>Der Wendepunkt hat die Koordinaten $(\frac{3}{4} \frac{1}{4})$.</p> <p>Skalierung siehe rechts.</p> <p>Die Steigung im Wendepunkt berechnet sich durch $f'(\frac{3}{4}) = 0,5$.</p> <p>Das gesuchte Intervall ist $[0; \frac{3}{2}]$.</p>		7	
	c	$\int_0^{2,25} t(x) - f(x) dx \approx 3,16$		3	
	d	<p>$f'(x) = -\frac{3}{2} \Leftrightarrow -\frac{8}{9}x^2 + \frac{4}{3}x = -\frac{3}{2} \Leftrightarrow x = -\frac{3}{4} \vee x = \frac{9}{4}$</p> <p>Bei $x = -\frac{3}{4}$ hat G_f eine Tangente mit gleicher Steigung.</p> <p>Ansatz für die Funktionsgleichung der zweiten Tangente: $t_2(x) = -\frac{3}{2} \cdot x + c$</p> <p>Es gilt $f(-\frac{3}{4}) = \frac{1}{2}$, also folgt $t_2(-\frac{3}{4}) = -\frac{3}{2} \cdot (-\frac{3}{4}) + c = \frac{1}{2}$ und damit $c = -\frac{5}{8}$.</p>		3	

		Lösungsskizze	I	II	III
e	Veranschaulichung z. B.:	 <p>Abstandsformel mit Hilfe des Satzes von Pythagoras:</p> $\text{dist}(P; A) = \sqrt{(3-p)^2 + (2-f(p))^2}$ <p>Statt der Koordinaten von p kann nun ein beliebiger Punkt $X(x f(x))$ des Graphen in die Abstandformel eingesetzt werden, dies liefert die Funktion d mit</p> $d(x) = \sqrt{(3-x)^2 + (2-f(x))^2}.$ <p>Die Stelle des Tiefpunkts der Funktion d ist die x-Koordinate des gesuchten Punktes und der zugehörige Funktionswert von f die y-Koordinate.</p>			5
2	a	<p>Der Anfangswert ist $c = 317$.</p> $h(25) = 317 \cdot e^{k \cdot 25} = 346 \Rightarrow e^{k \cdot 25} = \frac{346}{317} \Rightarrow k = \frac{\ln\left(\frac{346}{317}\right)}{25} \approx 0,0035$ <p>$h(50) \approx 378$</p> <p>Der Durchschnittswert der CO_2-Konzentration für das Jahr 2010 beträgt 380 und ist ungefähr so groß wie der Wert, der sich bei einer unveränderten Fortsetzung des exponentiellen Wachstums ergeben hätte. Daher ist diese Modellierung auch über den Zeitraum bis 1985 hinaus sinnvoll.</p>		4	
	b	<p>Der jährliche prozentuale Zuwachs beträgt 0,4 Prozent.</p> <p>Der Jahresdurchschnitt beträgt nach dem Modell für das Jahr 2020 mit $h(60) \approx 403$ ungefähr 403 ppm.</p> <p>Der gesuchte Funktionsterm ist $317 \cdot 1,004^t + 20$.</p>	3		
	c	<p>Der Wert entspricht dem mittleren Jahresdurchschnitt der CO_2-Konzentration gemittelt über die Jahre von 1985 bis 2010.</p>			2
Verteilung der insgesamt 32 Bewertungseinheiten auf die Anforderungsbereiche			10	15	7

Teil 2 – Aufgabe 2 Erwartungshorizont und Bewertung nach Anforderungsbereichen

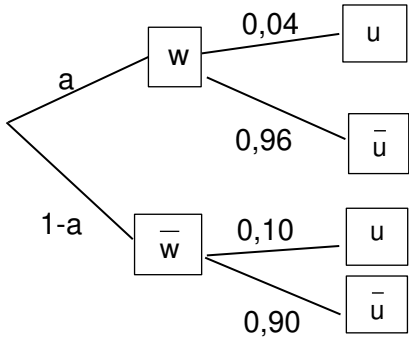
Der Erwartungshorizont stellt für jede Teilaufgabe eine mögliche Lösung dar. Nicht dargestellte korrekte Lösungen sind als gleichwertig zu akzeptieren.

	Lösungsskizze	I	II	III
1 a	Nullstellen: 0 und 3 Extremstellen: ca. 2,3 und ca. 1,3. Wendepunkt: Für $x \geq 0$ gilt: $f''(x) = 0 \Leftrightarrow x = -\frac{1}{2} + \frac{1}{2}\sqrt{17}$ $f''\left(-\frac{1}{2} + \frac{1}{2}\sqrt{17}\right) \neq 0$, $f\left(-\frac{1}{2} + \frac{1}{2}\sqrt{17}\right) > 0$	5		
b	Für $x \rightarrow -\infty$ nähert sich der Graph von f asymptotisch der x -Achse		1	
c	Eine Lösung der Gleichung $f'(x) = \frac{3e}{10}$ ist $x = 1$. Mit $f(1) = \frac{2e}{10}$ ist die Tangentengleichung an der Stelle 1: $y - \frac{2e}{10} = \frac{3e}{10} \cdot (x - 1)$. Damit ergibt sich für die gesuchte y -Koordinate $\frac{2e}{10} - \frac{3e}{10} = -\frac{e}{10}$. Aus $\tan\beta = \frac{3e}{10}$, d. h. $\beta \approx 39,2^\circ$ folgt $\alpha = 90^\circ - \beta \approx 50,8^\circ$.		5	
d	$F(3) - F(0) = \frac{1}{10} \cdot (e^3 + 5) \approx 2,5$ Der Inhalt des Flächenstücks, das der Graph von f für $0 \leq x \leq 3$ mit der x -Achse einschließt, beträgt etwa 2,5.		2	
e	Für $x > 3$ sind die Funktionswerte von f negativ und es gilt $\lim_{x \rightarrow +\infty} f(x) = -\infty$. Betrachtet man die Flächenstücke, die der Graph von f im Integrationsbereich mit der x -Achse und der Gerade mit der Gleichung $x = a$ einschließt, so gibt es folglich einen Wert von a , für den der Inhalt des oberhalb der x -Achse liegenden Flächenstücks ebenso groß ist wie der Inhalt des unterhalb liegenden Flächenstücks.		3	
f	Die Terme aller Stammfunktionen H von f haben die Form $H(x) = F(x) + c$. Es gilt $H'(x) = f(x)$ und damit $H'(0) = 0$, $H'(x) < 0$ für $x < 0$ und $H'(x) > 0$ für $x > 0$.			3
g	$H(x) = -\frac{1}{10} \cdot (x^2 - 5x + 5) \cdot e^x + c$, $H(0) = 0 \Leftrightarrow c = \frac{1}{2}$	3		
h	Wegen $g(x) = -f(x) = 0,1 \cdot x \cdot (x - 3) \cdot e^x$ gilt $b = 3$.			2
2 a	$h(x) = 0 \Leftrightarrow x_1 = -3, x_2 = 2$. Der Hochpunkt von h ist $H(0,33 3,09)$. Daher die maximale Breite 5cm und maximale Höhe 3,09 cm	2		

Lösungsskizze		I	II	III
b	<p>Für die quadratische Funktion p gilt $p(x) = ax^2 + bx + c$.</p> <p>Den Angaben im Text entnimmt man $p(1) = 0$; $p(-1) = 0$; $p(0) = 2$.</p> <p>Durch Lösen des LGS erhält man $a = -2$; $b = 0$; $c = 2$ und damit $p(x) = -2x^2 + 2$.</p> <p>Für die Querschnittsfläche des Werkstücks F_W und den Flächeninhalt des Aufklebers F_A gilt:</p> $F_W = \int_{-3}^2 h(x) dx \approx 8,7 \text{ [cm}^2\text{]}$ $F_A = \int_{-1}^1 p(x) dx \approx 2,7 \text{ [cm}^2\text{]}$ <p>Damit sind $\frac{F_W - F_A}{F_W} \approx 69\%$ der Fläche nicht beklebt.</p>		4	
c	<p>Der Wert der Funktion d mit $d(x) = \sqrt{(1-x)^2 + (1-h(x))^2}$ gibt den Abstand zwischen dem Punkt L und einem beliebigen Punkt $(x h(x))$ auf dem Graphen von h an. Es soll geprüft werden, ob die y-Koordinate der Tiefpunkte / des Tiefpunkts von d größer als 0,6 ist.</p>			2
Verteilung der insgesamt 32 Bewertungseinheiten auf die Anforderungsbereiche		10	15	7

Teil 2 – Aufgabe 3 Erwartungshorizont und Bewertung nach Anforderungsbereichen

Der Erwartungshorizont stellt für jede Teilaufgabe eine mögliche Lösung dar. Nicht dargestellte korrekte Lösungen sind als gleichwertig zu akzeptieren.

		Lösungsskizze	I	II	III
1	a	$P_{0,29}^{40}(12 \leq X \leq 40) \approx 50,4\%$	2		
	b	Die Wahrscheinlichkeit dafür, dass von den ausgewählten Beschäftigten höchstens zehn weiblich sind, beträgt etwa 36 %.		3	
	c	$P_{0,29}^{40}(X = 10) \approx 12,3\%$	2		
	d	$E(X) = 40 \cdot 0,29 = 11,6$ Damit hat die Wahrscheinlichkeitsverteilung von X ihren größten Wert für eine der beiden natürlichen Zahlen, die 11,6 benachbart sind.		3	
2	a	$x = 100\% - 10,5\% = 89,5\%$, $y = 0,29 \cdot 0,035 \approx 0,01$	3		
	b	x ist die Wahrscheinlichkeit dafür, dass eine nicht weibliche befragte Person dieser Abteilung angibt, nicht unzufrieden zu sein. y ist die Wahrscheinlichkeit dafür, dass eine befragte Person dieser Abteilung weiblich ist und angibt, unzufrieden zu sein.		3	
	c	$P(\bar{w} u) = \frac{0,71 \cdot 0,105}{0,71 \cdot 0,105 + 0,29 \cdot 0,035} \approx 88,0\%$		3	
	d	Bezeichnet man den Anteil der weiblichen Personen in dieser Abteilung mit a, so gilt:  $5 \cdot 0,04 \cdot a = 0,1 \cdot (1 - a) \Leftrightarrow 0,2a = 0,1 - 0,1a \Leftrightarrow 0,3a = 0,1 \Leftrightarrow a = \frac{1}{3}$ Ein Drittel der Beschäftigten dieser Abteilung ist weiblich. $\frac{1}{3} \cdot 0,96 = 0,32$ 32 Prozent der Beschäftigten dieser Abteilung sind weiblich und zufrieden.			5
Verteilung der insgesamt 24 Bewertungseinheiten auf die Anforderungsbereiche			7	12	5

Teil 2 – Aufgabe 4 Erwartungshorizont und Bewertung nach Anforderungsbereichen

Der Erwartungshorizont stellt für jede Teilaufgabe eine mögliche Lösung dar. Nicht dargestellte korrekte Lösungen sind als gleichwertig zu akzeptieren.

	Lösungsskizze	I	II	III
a	<p>Die Punkte R und Q unterscheiden sich nur in der x_1-Koordinate, daher ist die Strecke \overline{RQ} parallel zur x_1-Achse.</p> <p>Wegen $\overline{OR} = \overline{PQ} = \begin{pmatrix} 0 \\ -12 \\ 9 \end{pmatrix}$ stehen \overline{OR} und \overline{PQ} senkrecht zur x_1-Achse.</p> <p>Damit ist das Viereck OPQR ein Rechteck.</p>	3		
b	<p>$\overline{OP} \cdot \overline{OR} = \frac{25}{2} \cdot \sqrt{12^2 + 9^2} = 187,5$, d. h. der Flächeninhalt beträgt etwa $1,9\text{m}^2$.</p>	2		
c	<p>$E: \vec{x} = \overline{OO} + r \cdot \overline{OP} + s \cdot \overline{OR} = \begin{pmatrix} 0 \\ 0 \\ 0 \end{pmatrix} + r \cdot \begin{pmatrix} -12,5 \\ 0 \\ 0 \end{pmatrix} + s \cdot \begin{pmatrix} 0 \\ -12 \\ 9 \end{pmatrix}$ mit $r, s \in \mathbb{R}$.</p>	2		
d	<p>$\cos \alpha = \frac{\begin{pmatrix} 0 \\ 3 \\ 4 \end{pmatrix} \cdot \begin{pmatrix} 0 \\ 0 \\ 1 \end{pmatrix}}{\begin{pmatrix} 0 \\ 3 \\ 4 \end{pmatrix} \cdot \begin{pmatrix} 0 \\ 0 \\ 1 \end{pmatrix}}$, d. h. $\alpha \approx 36,9^\circ$.</p>		3	
e	<p>Die erste Koordinate von L ergibt sich aus dem Mittel der ersten Koordinaten von R und Q und die letzte Koordinate von L aus der Höhe von 60 cm.</p> <p>Insgesamt führt dies zum Ansatz $L(-6,25 l_2 6)$.</p> <p>Das Einsetzen dieser Koordinaten in die Koordinatenform der Ebene E liefert $3 \cdot l_2 + 4 \cdot 6 = 0$ und daraus folgt $l_2 = -8$, also $L(-6,25 -8 6)$.</p>		3	
f	<p>Der Punkt S, an dem die Stütze an der geneigten Fläche befestigt ist, ergibt sich als Durchstoßpunkt der Geraden g mit der Ebene E. Die einzelnen Koordinatengleichungen der Geraden g in die Koordinatenform der Ebene E eingesetzt, ergibt</p> $3 \cdot (-10 + r) + 4 \cdot (3r) = 0 \Leftrightarrow r = 2$ <p>Wird $r = 2$ in die Gleichung der Gerade g eingesetzt, so liefert dies die Koordinaten des gesuchten Punktes: $S(-6 -8 6)$.</p> $ \overline{LS} = \left \begin{pmatrix} -6 \\ -8 \\ 6 \end{pmatrix} - \begin{pmatrix} -25/4 \\ -8 \\ 6 \end{pmatrix} \right = \left \begin{pmatrix} 1/4 \\ 0 \\ 0 \end{pmatrix} \right = 0,25$ <p>Der Abstand von L und S ist damit 2,5 Zentimeter und der Mindestabstand von 5 Zentimetern wird nicht eingehalten.</p>		6	

Lösungsskizze		I	II	III
g	<p>Die Bewegungsrichtung des Balles vor dem Auftreffen in Punkt K ist gleich der Projektion des Vektors \vec{v} auf die x_1x_2-Ebene. Somit rollt der Ball nach dem Abschlag entlang einer Geraden h mit</p> $h: \vec{x} = \begin{pmatrix} -5 \\ 0 \\ 0 \end{pmatrix} + r \cdot \begin{pmatrix} 3 \\ -8 \\ 0 \end{pmatrix}, r \in \mathbf{R}.$ <p>Da der Abschlagpunkt noch der Bedingung $x_2 = 20$ genügen muss, ergibt sich daraus</p> $\begin{pmatrix} -5 \\ 0 \\ 0 \end{pmatrix} + r \cdot \begin{pmatrix} 3 \\ -8 \\ 0 \end{pmatrix} = \begin{pmatrix} t_1 \\ 20 \\ t_3 \end{pmatrix}.$ <p>Aus der mittleren Gleichung folgt $r = -2,5$ und damit $T(-12,5 20 0)$.</p>			5
Verteilung der insgesamt 24 Bewertungseinheiten auf die Anforderungsbereiche		7	12	5

Teil 2 – Aufgabe 5 Erwartungshorizont und Bewertung nach Anforderungsbereichen

Der Erwartungshorizont stellt für jede Teilaufgabe eine mögliche Lösung dar. Nicht dargestellte korrekte Lösungen sind als gleichwertig zu akzeptieren.

		Lösungsskizze	I	II	III
1	a	Jährlich bringen die alten Tiere im Mittel jeweils zwei weibliche Nachkommen zur Welt. 80% der jungen Tiere überleben das zweite Lebensjahr.	2		
	b	$L^2 = \begin{pmatrix} 0,75 & 1,6 & 1,4 \\ 0 & 0,75 & 1,5 \\ 0,6 & 0,56 & 0,49 \end{pmatrix}.$ <p>Der Eintrag in der ersten Zeile und dritten Spalte ergibt sich mit der Rechnung: $0 \cdot 2 + 1 \cdot 0 + 2 \cdot 0,7 = 1,4$.</p> <p>Der Matrixeintrag 0,6 gibt an, dass sich nur 60% der unreifen Tiere innerhalb von 2 Jahren weiter zu alten Tieren entwickeln.</p>		3	
	c	$L^2 * \begin{pmatrix} 24 \\ 46 \\ 6 \end{pmatrix} \approx \begin{pmatrix} 100 \\ 44 \\ 43 \end{pmatrix};$ d.h. zwei Jahre nach Beobachtungsbeginn besteht die Zusammensetzung aus etwa 100 unreifen, 44 jungen und 43 alten Tieren. $L^{-1} * \begin{pmatrix} 24 \\ 46 \\ 6 \end{pmatrix} \approx \begin{pmatrix} 61 \\ -5 \\ 15 \end{pmatrix};$ eine negative Anzahl von Tieren ist im Sachzusammenhang nicht sinnvoll.	3		
	d	$L * \begin{pmatrix} u \\ j \\ a \end{pmatrix} = b \cdot \begin{pmatrix} u \\ j \\ a \end{pmatrix}$ liefert $b = 1,5$ und $\begin{pmatrix} u \\ j \\ a \end{pmatrix} = c \cdot \begin{pmatrix} 2 \\ 1 \\ 1 \end{pmatrix}$ mit $c \in \mathbb{N} \setminus \{0\}$. Bei den Zusammensetzungen ist das Verhältnis der Anzahlen der unreifen, jungen und alten Tiere $2 : 1 : 1$. Alternative Beschreibungen sind möglich!		3	
2	a	Eintrag: $2k$ Bedeutung: Pro altem Tier gibt es von einem Frühjahr zum nächsten $2k$ zusätzliche unreife Tiere. Begründung: Von Frühjahr bis Herbst bringen die alten Tiere im Mittel jeweils zwei weibliche Nachkommen zur Welt, von denen der Anteil k bis zum folgenden Frühjahr überlebt.		3	
	b	Für $k = \frac{4}{5}$ gilt: $(N * M)^2 * \begin{pmatrix} 225 \\ 225 \\ 225 \end{pmatrix} = \begin{pmatrix} 630 \\ 360 \\ 325 \end{pmatrix}$; d.h. die Zusammensetzung besteht zwei Jahre später aus 630 unreifen, 360 jungen und 325 alten Tieren.	2		
	c	$N * M * \begin{pmatrix} u \\ 100 \\ a \end{pmatrix} = \begin{pmatrix} u \\ 100 \\ a \end{pmatrix}$ liefert $k = \frac{3}{11}$ und $\begin{pmatrix} u \\ j \\ a \end{pmatrix} = \begin{pmatrix} \frac{3}{2} \cdot 100 \\ 100 \\ \frac{9}{4} \cdot 100 \end{pmatrix}$, d.h. die zugehörige Zusammensetzung besteht aus 150 unreifen, 100 jungen und 225 alten Tieren.		3	

		Lösungsskizze	I	II	III
d	$N * M * N * \begin{pmatrix} u \\ j \\ 1053 - u - j \end{pmatrix} = \begin{pmatrix} 225 \\ 225 \\ 225 \end{pmatrix} \Leftrightarrow k = \frac{1}{2} \wedge u = 675 \wedge j = 216.$ <p>Damit ergibt sich $a = 162$; d. h. die zugehörige Zusammensetzung bestand aus 675 unreifen, 216 jungen und 162 alten Tieren.</p>				5
Verteilung der insgesamt 24 Bewertungseinheiten auf die Anforderungsbereiche			7	12	5

Schriftliche Abiturprüfung 2020

Grundkurs Mathematik

Dienstag, 5. Mai 2020, 9:00 Uhr

Unterlagen für die Prüfungsteilnehmerinnen und –teilnehmer

– Teil 1: „hilfsmittelfreie“ Aufgaben –

Allgemeine Arbeitshinweise

- Tragen Sie bitte oben rechts auf diesem Blatt und auf den nachfolgenden Aufgabenblättern die Schulnummer, die schulinterne Kursbezeichnung und Ihren Namen ein.
- Schreiben Sie auf alle Entwurfsblätter (Kladde) und die Reinschrift Ihren Namen.
- Versehen Sie Ihre Reinschrift mit Seitenzahlen.

Fachspezifische Arbeitshinweise

- Die Arbeitszeit für diesen Teil beträgt 45 Minuten.
 - **Erlaubte Hilfsmittel: Zeichengerät, Rechtschreiblexikon.**
-

Aufgaben

- Sie erhalten vier Aufgaben zur Bearbeitung.
- Überprüfen Sie bitte zu Beginn die Vollständigkeit der vorgelegten Aufgaben (Anzahl der Blätter, Anlagen, ...).
- Vermerken Sie in Ihrer Reinschrift, welche Aufgabe Sie jeweils bearbeiten.

Teil 1 – Aufgabe 1 - zum Themenbereich Analysis

Gegeben ist die in \mathbb{R} definierte Funktion f mit $f(x) = x^3 - 14x - 5$.


- a Zeigen Sie, dass der Graph von f an der Stelle 0 einen Wendepunkt hat.
- b Bestimmen Sie den Term derjenigen Stammfunktion von f , deren Graph durch den Punkt $(2 | -30)$ verläuft.


BE

3

2

5






Teil 1 – Aufgabe 2 - zum Themenbereich Analysis


Der Graph einer quadratischen Funktion f verläuft durch den Koordinatenursprung. Die Tangente an diesen Graphen an der Stelle 2 hat die Gleichung $y = 4x - 2$. Bestimmen Sie einen Funktionsterm von f .

BE

5

5





Teil 1 – Aufgabe 3 - zum Themenbereich Stochastik

a Die binomialverteilte Zufallsgröße X hat die Parameter $n_x = 4$ und p_x sowie den Erwartungswert 2. Bestimmen Sie die Wahrscheinlichkeit $P(X = 4)$.


b Die binomialverteilte Zufallsgröße Y hat den Parameter n_Y und $p_Y = 0,2$. Formulieren Sie dazu eine Aufgabenstellung, die sich mithilfe des Ansatzes $1 - 0,8^{n_Y} < 0,3$ lösen lässt.


BE

2

3

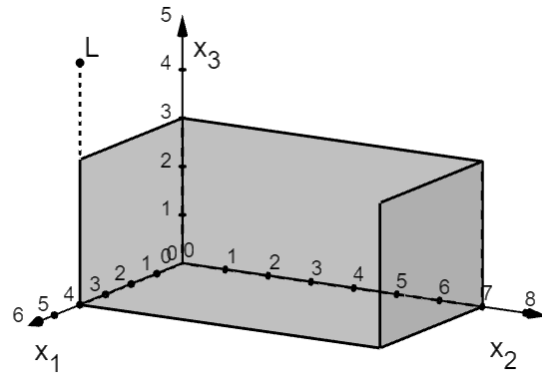
5





Teil 1 – Aufgabe 4 - zum Themenbereich Analytische Geometrie

Die Abbildung zeigt in einem Koordinatensystem modellhaft eine 7 m breite Theaterkulisse. Die linke Seitenwand liegt im Modell in der x_1x_3 -Ebene und ist 4 m tief und 3 m hoch; die rechte Seitenwand ist dazu parallel. Ein auf der Bühne stehender Gegenstand wird von einer Lampe beleuchtet. Die Lampe wird im Modell durch den Punkt $L(4|0|5)$ dargestellt, die Spitze des Gegenstands durch den Punkt $S(1|6|2)$ (nicht abgebildet).





BE

5

Ermitteln Sie eine Gleichung der Geraden durch die Punkte L und S.
Zeigen Sie rechnerisch, dass der Schatten der Spitze auf der rechten Seitenwand der Bühne liegt.

5





Teil 1 – Aufgabe 5 - zum Themenbereich Lineare Algebra

BE

Gegeben ist die Matrix $A = \begin{pmatrix} 0 & \frac{1}{2} & 0 \\ 0 & 0 & -\frac{1}{5} \\ -10 & 0 & 0 \end{pmatrix}$.


a Die Matrix $A^{-1} = \begin{pmatrix} 0 & 0 & c \\ a & 0 & 0 \\ 0 & b & 0 \end{pmatrix}$ ist die inverse Matrix zu A . Geben Sie die Werte von a , b und c an.


2

b Es gibt Vektoren $\vec{v} = \begin{pmatrix} x \\ y \\ z \end{pmatrix}$ mit $\vec{v} \neq \begin{pmatrix} 0 \\ 0 \\ 0 \end{pmatrix}$, für die $A \cdot \vec{v} = \vec{v}$ gilt. Ermitteln Sie einen dieser Vektoren.

3

5





Schriftliche Abiturprüfung 2020 im dritten Prüfungsfach
Grundkurs Mathematik (CAS)

Freitag, 5. Mai 2020, 9:00 Uhr

Unterlagen für die Prüfungsteilnehmerinnen und –teilnehmer

– Teil 2: Aufgaben mit Hilfsmitteln –

Allgemeine Arbeitshinweise

- Tragen Sie bitte oben rechts auf diesem Blatt und auf den nachfolgenden Aufgabenblättern die Schulnummer, die schulinterne Kursbezeichnung und Ihren Namen ein.
- Schreiben Sie auf alle Entwurfsblätter (Kladde) und die Reinschrift Ihren Namen.
- Versehen Sie Ihre Reinschrift mit Seitenzahlen.

Fachspezifische Arbeitshinweise

- Die Arbeitszeit beträgt 180 Minuten.
 - Erlaubte Hilfsmittel: Computer-Algebra-System (CAS), dessen Betriebsfähigkeit die Schülerin / der Schüler gewährleistet, Formelsammlung, Zeichengerät, Rechtschreiblexikon.
-

Aufgaben

- Sie erhalten drei Aufgaben zur Bearbeitung.
- Überprüfen Sie bitte zu Beginn die Vollständigkeit der vorgelegten Aufgaben (Anzahl der Blätter, Anlagen, ...).
- Vermerken Sie in Ihrer Reinschrift, welche Aufgabe Sie jeweils bearbeiten.

Teil 2 – Aufgabe 1 - zum Themenbereich Analysis

CO₂-Konzentration

BE

1 Die Funktion f ist eine in \mathbb{R} definierte ganzrationale Funktion dritten Grades.

Der Graph G_f der Funktion f geht durch den Punkt $A(0|0)$ und hat dort die Steigung 0.

Im Punkt $B(3|-2)$ geht G_f ohne Knick in die Gerade mit der Funktionsgleichung

$$y = -4x + 10$$

über.

a **Bestimmen** Sie eine Funktionsgleichung von f .

(Kontrolllösung: $f(x) = -\frac{8}{27}x^3 + \frac{2}{3}x^2$)

5

b Der Graph G_f von f ist in der Abbildung 1 angegeben.

G_f hat seinen Tiefpunkt im Ursprung.

Bestimmen Sie die Koordinaten des Hochpunkts und des Wendepunkts von G_f .

Geben Sie die Skalierung der Achsen in Abbildung 1 an.

Bestimmen Sie die Steigung von G_f im Wendepunkt.

Geben Sie das Intervall auf der x -Achse an, auf dem G_f keine negative Steigung besitzt.

7

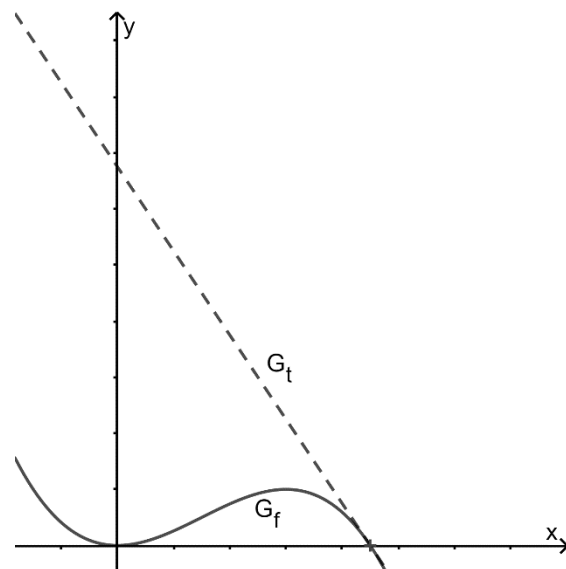


Abbildung 1

Die Nullstellen der Funktion f sind 0 und $\frac{9}{4}$. Die Tangente G_t an den Graphen G_f im

Punkt $(\frac{9}{4}|0)$ hat die Funktionsgleichung

$$t(x) = -\frac{3}{2}x + \frac{27}{8}.$$

c Die Tangente G_t , der Graph G_f und die y -Achse schließen im ersten Quadranten ein Flächenstück ein (siehe Abbildung 1).

Berechnen Sie die Größe dieses Flächenstücks.

3

d Es gibt eine andere Tangente an den Graphen G_f , die parallel zur Tangente G_t ist.

Ermitteln Sie deren Funktionsgleichung.

3

e Gegeben ist ein Punkt $P(p | f(p))$ auf dem Graphen von f sowie der Punkt $A(3 | 2)$ (siehe Abbildung 2).

5

Ermitteln Sie mit Hilfe von Abbildung 2 einen Term für die Berechnung des Abstandes von A und P und **veranschaulichen** Sie ihr Vorgehen in der Abbildung 2. Der Term braucht hierbei nicht vereinfacht zu werden.

Es gibt einen Punkt Q auf dem Graphen G_f , der von A den geringsten Abstand hat.

Erläutern Sie ein Verfahren, wie dieser Punkt bestimmt werden kann. Rechnungen sollen dabei nicht ausgeführt werden.

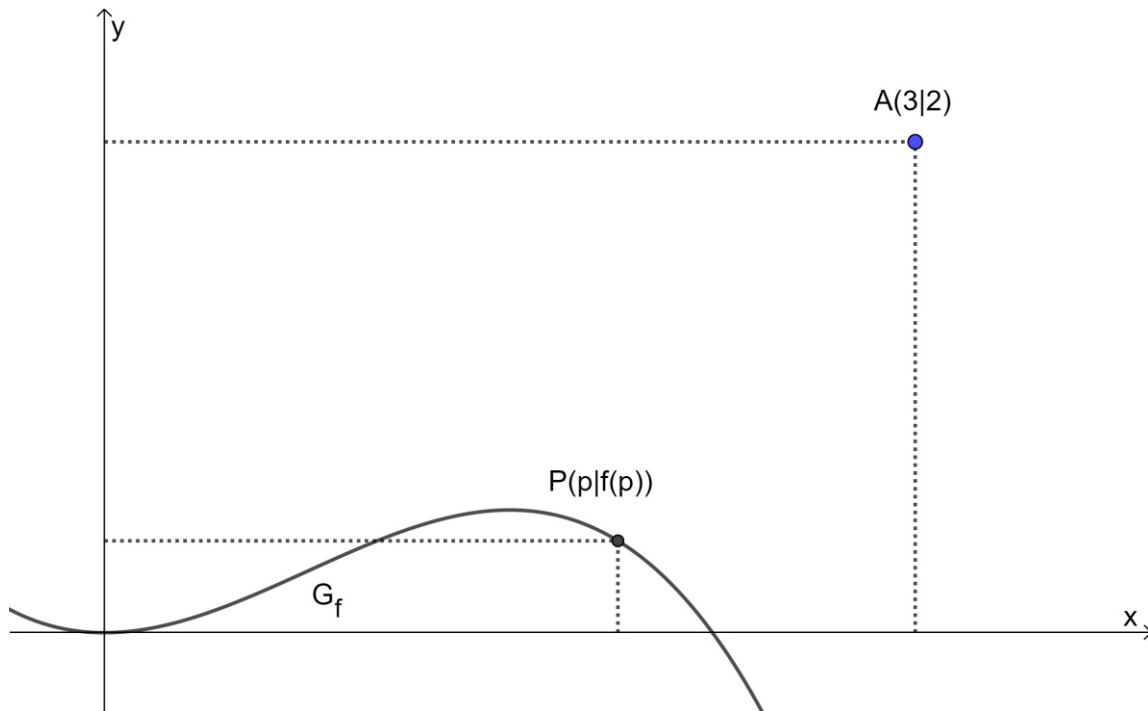


Abbildung 2

2 In einer Messstation wird seit 1958 kontinuierlich die CO_2 -Konzentration in der Luft gemessen, die in ppm (parts per million) angegeben wird. Die Tabelle gibt für die Jahre 1960, 1985 und 2010 jeweils den Jahresdurchschnitt der Messwerte an.

Jahr	1960	1985	2010
CO_2 -Konzentration in ppm (Jahresdurchschnitt)	317	346	380

Die Jahresdurchschnitte haben sich im Zeitraum von 1960 bis 1985 in guter Näherung exponentiell entwickelt. Die Funktion h mit

$$h(t) = c \cdot e^{k \cdot t}, \quad t \in \mathbb{R},$$

modelliert diesen Sachzusammenhang in diesem Zeitraum, wobei t die Zeit in Jahren nach 1960 ist und $h(t)$ die CO_2 -Konzentration in ppm.

a Bestimmen Sie Parameter c und k .

Berechnen Sie unter der Annahme, dass sich das exponentielle Wachstum nach 1985 in gleicher Weise fortgesetzt hat, den Jahresdurchschnitt für das Jahr 2010. **Vergleichen** Sie diesen Wert mit dem zugehörigen Wert aus der Tabelle und formulieren Sie das Ergebnis Ihres Vergleichs im Sachzusammenhang.

Die Funktion h kann näherungsweise durch

$$h(t) = 317 \cdot 1,004^t$$

dargestellt werden. Verwenden Sie ab hier diese Funktionsgleichung.

b Geben Sie für die Funktion h den ungefähren prozentualen Zuwachs pro Jahr in Prozent an.

Berechnen Sie nach diesem Modell den Jahresdurchschnitt der CO_2 -Konzentration für das Jahr 2020.

Ein Standort, der mit der Messstation von oben vergleichbar ist, unterscheidet sich nur durch eine einzelne Fabrik, die konstant CO_2 ausstößt. Die Jahresdurchschnitte der CO_2 -Konzentration dieser Messstation sind jeweils um 20 ppm höher als bei der zuerst betrachteten Messstation. **Geben** Sie einen Funktionsterm an, der die Jahresdurchschnitte der zweiten Messstation modelliert.

c Für eine Stammfunktion H von h gilt:

$$\frac{H(50) - H(25)}{25} \approx 368,3.$$

Interpretieren Sie den Wert 368,3 im Sachzusammenhang.

4

3

2

32

Teil 2 – Aufgabe 2 - zum Themenbereich Analysis

Werkstück

Gegeben ist die Funktion f mit $f(x) = 0,1 \cdot x \cdot (3-x) \cdot e^x$ und $x \in \mathbb{R}$.

1 a Geben Sie die Nullstellen und Extremstellen des Graphen von f **an**.
Zeigen Sie rechnerisch, dass der Graph von f im ersten Quadranten einen Wendepunkt hat.

BE

5

b Beschreiben Sie den Verlauf des Graphen von f für $x \rightarrow -\infty$.

1

c Es gibt zwei Tangenten an den Graphen von f , deren Steigung $\frac{3e}{10}$ ist.

5

Berechnen Sie für eine dieser Tangenten die y -Koordinate des Schnittpunkts mit der y -Achse sowie die Größe des Winkels, unter dem sie die y -Achse schneidet.

Die Funktion F ist eine Stammfunktion von f .

d Berechnen Sie den Wert des Terms $F(3) - F(0)$ und **deuten** Sie das Ergebnis geometrisch.

2

e Begründen Sie ohne zu rechnen, dass es eine positive Zahl a gibt, für die $\int_0^a f(x) dx = 0$ gilt.

3

f Begründen Sie ohne Integration, dass der Graph jeder Stammfunktion von f einen Tiefpunkt hat, der auf der y -Achse liegt.

3

g Bestimmen Sie diejenige Stammfunktion von f , deren Graph einen Tiefpunkt im Koordinatenursprung hat.

3

h Gegeben ist eine in \mathbb{R} definierte Funktion g mit $g(x) = 0,1 \cdot x \cdot (x-b) \cdot e^x$ mit $b \in \mathbb{R}, b > 0$.
Der Graph von g und der Graph von f bilden eine Figur, die bezüglich der x -Achse symmetrisch ist. **Bestimmen** Sie b .

2

2 Die Querschnittsfläche eines Holzwerkstücks entspricht der Fläche, die vom Graphen der Funktion h mit

$$h(x) = -\frac{1}{6}x^3 - \frac{2}{3}x^2 + \frac{1}{2}x + 3, \quad x \in \mathbb{R}$$

und der x -Achse eingeschlossen wird. Eine Längeneinheit entspricht einem Zentimeter.

a Geben Sie die maximale Breite und die maximale Höhe des Werkstücks **an**.

2

- b** Auf die Querschnittsfläche des Werkstücks soll ein roter Aufkleber aufgebracht werden. Der Aufkleber ist 2 cm breit und 2 cm hoch. Im Modell verläuft sein oberer Rand entlang einer nach unten geöffneten Parabel. Der untere Rand des Aufklebers liegt auf der x-Achse.

Bestimmen Sie eine Gleichung der quadratischen Funktion p , die achsensymmetrisch ist und den oberen Rand des Aufklebers modelliert.

Bestimmen Sie, wie viel Prozent der Querschnittsfläche des Werkstücks nicht beklebt sind.

- c** In das Werkstück wird ein Loch gebohrt, das im Modell durch den Punkt $L(1|1)$ beschrieben wird.

Erläutern Sie ein Verfahren, um zu prüfen, ob der kleinste Abstand des Lochs vom oberen Rand des Aufklebers größer als 0,6 cm ist.

4

2

32

Teil 2 – Aufgabe 3 - zum Themenbereich Stochastik

Zufriedenheit von Beschäftigten

BE

In einem großen Unternehmen sind 29 % der Beschäftigten weiblich.

1 Es werden 40 Beschäftigte zufällig ausgewählt. Die Anzahl der weiblichen Beschäftigten unter den ausgewählten Beschäftigten kann durch eine binomialverteilte Zufallsgröße X beschrieben werden.

a **Berechnen** Sie die Wahrscheinlichkeit dafür, dass mindestens 12 der ausgewählten Beschäftigten weiblich sind. 2

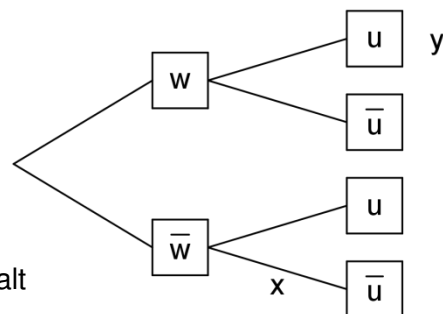
b **Beschreiben** Sie die Bedeutung der folgenden mathematischen Aussage im Sachzusammenhang: 3

$$\sum_{x=0}^{10} \binom{40}{x} \cdot 0,29^x \cdot 0,71^{40-x} \approx 0,36$$

c **Bestimmen** Sie die Wahrscheinlichkeit dafür, dass unter den 40 ausgewählten Beschäftigten die Anzahl derjenigen, die nicht weiblich sind, dreimal so groß ist wie die Anzahl der weiblichen. 2

d **Begründen** Sie ohne Berechnung von Wahrscheinlichkeiten, dass die Wahrscheinlichkeitsverteilung von X für 11 oder 12 den größten Wert hat. 3

2 Unter allen Beschäftigten wurde eine Befragung zur Zufriedenheit am Arbeitsplatz durchgeführt. Dabei ergab sich, dass 3,5 % der weiblichen und 10,5 % der nicht weiblichen Beschäftigten unzufrieden sind. Unter allen Beschäftigten wird eine Person zufällig ausgewählt.



Das abgebildete Baumdiagramm stellt den Sachverhalt dar.

a **Ermitteln** Sie die Werte von x und y . 3

b **Erläutern** Sie die Bedeutung dieser beiden Werte im Sachkontext. 3

c Die ausgewählte Person ist an ihrem Arbeitsplatz unzufrieden. 3

Bestimmen Sie die Wahrscheinlichkeit dafür, dass sie nicht weiblich ist.

d Für eine Abteilung des Unternehmens ergab die Befragung, dass 10 % der nicht weiblichen Beschäftigten und 4 % der weiblichen an ihrem jeweiligen Arbeitsplatz unzufrieden sind. Unter allen Beschäftigten dieser Abteilung ist der Anteil der unzufriedenen Beschäftigten, die nicht weiblich sind, fünfmal so groß wie der Anteil der unzufriedenen Beschäftigten, die weiblich sind. 5

Bestimmen Sie für diese Abteilung den Anteil der weiblichen Beschäftigten.

Bestimmen Sie für diese Abteilung zudem den Anteil der Beschäftigten, die weiblich und zufrieden sind.



Teil 2 – Aufgabe 4 - zum Themenbereich Analytische Geometrie

Minigolf

BE

Das Viereck OPQR mit den Eckpunkten

- O(0|0|0),
- P(-12,5|0|0),
- Q(-12,5|-12|9) und
- R(0|-12|9)

stellt modellhaft die geneigte Fläche einer Minigolfbahn dar (siehe Abbildung 1).

Im verwendeten Koordinatensystem beschreibt die x_1x_2 -Ebene den horizontalen Untergrund; eine Längeneinheit entspricht 10 cm in der Realität.

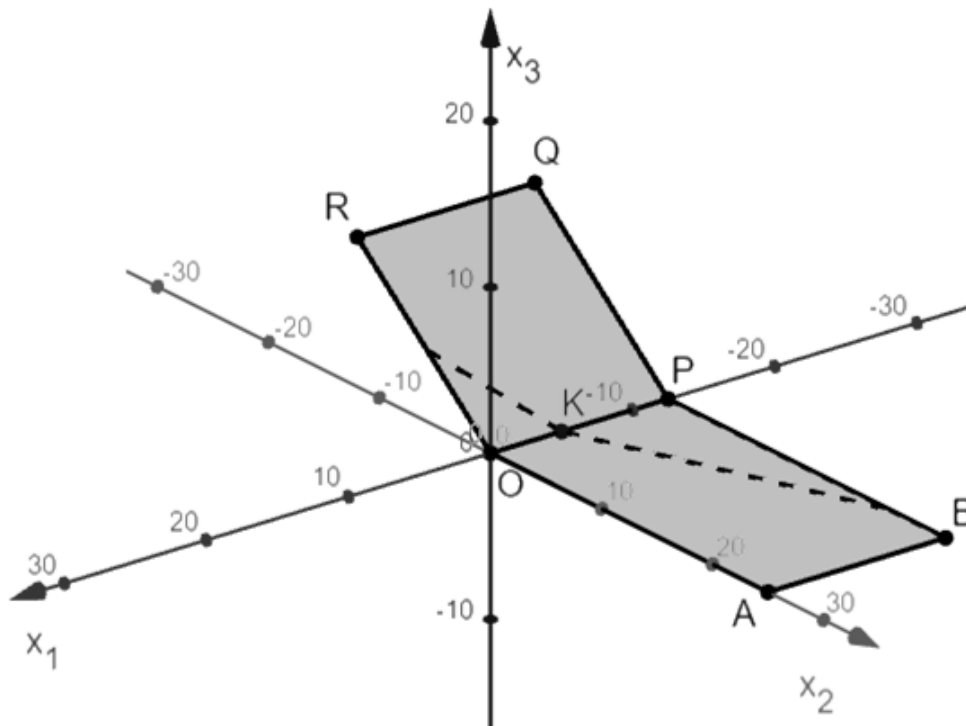


Abbildung 1

- a **Begründen** Sie, dass die Strecke \overline{RQ} parallel zur x_1 -Achse verläuft und dass das Viereck OPQR ein Rechteck ist. 3
- b **Berechnen** Sie den Flächeninhalt der geneigten Fläche der Minigolfbahn. 2
- c Die Eckpunkte des Rechtecks OPQR liegen in der Ebene E. 2
Ermitteln Sie eine Parametergleichung der Ebene E.

Die Ebene E kann auch durch die Koordinatenform $E: 3x_2 + 4x_3 = 0$ beschrieben werden.

d Berechnen Sie die Größe des Winkels, den die geneigte Fläche der Bahn mit dem Untergrund einschließt. 3

e Das Loch der Minigolfbahn ist in der geneigten Fläche in einer Höhe von 60 Zentimetern über dem horizontalen Untergrund angebracht. Das Loch wird im Modell mit dem Punkt L bezeichnet und hat von R und Q den gleichen Abstand. 3

Bestimmen Sie die Koordinaten von L.

(Kontrolllösung: $L(-6,25 | -8 | 6)$)

f Die geneigte Fläche der Minigolfbahn soll durch eine Stütze abgestützt werden. 6

Das untere Ende der Stütze soll am horizontalen Untergrund verankert werden. Im Modell entspricht der Punkt $U(-6 | -10 | 0)$ dem unteren Ende der Stütze.

Das obere Ende der Stütze soll an der geneigten Fläche der Minigolfbahn befestigt werden. Im Modell wird dieser Punkt S genannt.

Die Richtung der Stütze verläuft im Modell entlang der Geraden

$$g: \vec{x} = \begin{pmatrix} -6 \\ -10 \\ 0 \end{pmatrix} + r \cdot \begin{pmatrix} 0 \\ 1 \\ 3 \end{pmatrix}, r \in \mathbb{R}.$$

Bestimmen Sie den oberen Punkt S der Stütze und **entscheiden** Sie, ob zwischen dem oberen Ende der Stütze (S) und der Mitte des Lochs (L) ein Mindestabstand von 5 Zentimetern besteht.

(Kontrolllösung: $S(-6 | -8 | 6)$)

g Die Abschlagsfläche auf dem horizontalen Untergrund wird in der Abbildung durch das Rechteck ABPO dargestellt. 5

Der Ball wird im Punkt $T(t_1 | 20 | t_3)$ auf dieser Fläche abgeschlagen und rollt dann zunächst entlang einer geraden Linie zu dem Punkt $K(-5 | 0 | 0)$.

In Punkt K trifft der Ball auf die geneigte Fläche der Minigolfbahn und rollt anschließend in Richtung des Vektors

$$\vec{v} = \begin{pmatrix} 3 \\ -8 \\ 6 \end{pmatrix}$$

auf die geneigte Fläche. Der Weg ist durch die gestrichelte Linie in der Abbildung 1 angedeutet.

Ermitteln Sie die Koordinaten des Abschlagspunktes T.

Teil 2 – Aufgabe 5 - zum Themenbereich Lineare Algebra

Säugetiere

BE

Betrachtet wird die Entwicklung von Populationen weiblicher Säugetiere derselben Art. Nur im ersten Lebensjahr sind die Tiere unreif, im zweiten Lebensjahr werden sie als jung, anschließend als alt bezeichnet. Die Zusammensetzungen solcher Populationen können durch

Vektoren der Form $\begin{pmatrix} u \\ j \\ a \end{pmatrix}$ dargestellt werden, wobei u die Anzahl der unreifen, j die Anzahl der jungen und a die Anzahl der alten Säugetiere bezeichnet.

1 Die Entwicklung einer solchen Population von einem Jahr n zum nächsten kann modell-

haft durch die Gleichung $\vec{v}_{n+1} = L * \vec{v}_n$ mit $L = \begin{pmatrix} 0 & 1 & 2 \\ 0,75 & 0 & 0 \\ 0 & 0,8 & 0,7 \end{pmatrix}$ beschrieben werden.

Zu Beobachtungsbeginn besteht die Population aus 24 unreifen, 46 jungen und 6 alten Tieren.

a **Beschreiben** Sie die Bedeutung der Einträge 2 und 0,8 von L im Sachzusammenhang. 2

b **Bestimmen** Sie L^2 und **geben** Sie die Rechnung **an**, aus der sich in L^2 der Eintrag in der ersten Zeile und dritten Spalte ergibt. **Ermitteln** Sie den prozentualen Anteil der unreifen Tiere, die sich in zwei Jahren erst zu jungen und dann zu alten Tieren weiterentwickeln. 3

c **Berechnen** Sie die Zusammensetzung der Population zwei Jahre nach Beobachtungsbeginn. 3

Zeigen Sie, dass das Modell zur Beschreibung der Entwicklung der Population ein Jahr vor Beobachtungsbeginn nicht geeignet ist.

Bei bestimmten Zusammensetzungen der Population wachsen die Anzahlen der Tiere in den drei Entwicklungsstadien von einem Jahr zum nächsten mit dem gleichen Faktor.

d **Bestimmen** Sie diesen Faktor und **beschreiben** Sie diese Zusammensetzungen. 3

2 Die Entwicklung einer anderen Population von einem Frühjahr n zum nächsten kann durch die Gleichung $\vec{w}_{n+1} = N * M * \vec{w}_n$ dargestellt werden. Dabei beschreibt

$M = \begin{pmatrix} 0 & 1 & 2 \\ \frac{4}{5} & 0 & 0 \\ 0 & \frac{9}{10} & \frac{4}{5} \end{pmatrix}$ die Entwicklung vom Frühjahr zum folgenden Herbst und $N = \begin{pmatrix} k & 0 & 0 \\ 0 & \frac{5}{6} & 0 \\ 0 & 0 & \frac{5}{6} \end{pmatrix}$

mit $0 < k < 1$ die Entwicklung vom Herbst zum folgenden Frühjahr.

Zu Beobachtungsbeginn in einem Frühjahr besteht diese andere Population aus 225 unreifen, 225 jungen und 225 alten Tieren.

-
- a Geben** Sie den Eintrag in der ersten Zeile und dritten Spalte der Matrix $N * M$ **an** und **beschreiben** Sie dessen Bedeutung im Sachzusammenhang. **Begründen** Sie den Wert dieses Eintrags mit der Entwicklung von Frühjahr bis Herbst und der Entwicklung von Herbst bis Frühjahr. 3
- b Bestimmen** Sie für $k = \frac{4}{5}$ die Zusammensetzung der Population zwei Jahre nach Beobachtungsbeginn. 2
- Für einen Wert von k gibt es eine Zusammensetzung der Population mit 100 jungen Tieren, die sich von einem Frühjahr zum nächsten nicht verändert.
- c Bestimmen** Sie diesen Wert von k sowie die zugehörige Zusammensetzung. 3
- Zu Beobachtungsbeginn in einem Frühjahr besteht die Population aus 225 unreifen, 225 jungen und 225 alten Tieren. Die Population bestand eineinhalb Jahre zuvor aus 1053 Tieren.
- d Bestimmen** Sie den Wert von k und die Zusammensetzung der Population eineinhalb Jahre vor Beobachtungsbeginn. 5
-
- 24